

*Тематична діагностична робота №2 з математики*

**Натуральні числа. Координатний промінь.**

**Шкала. Робота з даними**

---

дата

Виконав/-ла

Учень/учениця 5\_\_ класу

---

Назва закладу

---

Прізвище та ім'я

Шановний /- на п'ятикласнику/-це

Запрошуємо Тебе у чарівний світ математики.

Попробуй продіагностувати свої знання. Читай уважно кожне завдання.  
У деяких із них потрібно вибрати одну із вказаних відповідей, в інших -  
записати повне розв'язання, пояснення і відповідь. Уважно перевір свої  
записи.

Успіхів Тобі! Ти все зможеш!

*М.Барна, Л. Дутко*

## Тематична діагностична робота №2 з математики (5 клас)

### Натуральні числа. Координатний промінь. Шкала. Робота з даними.

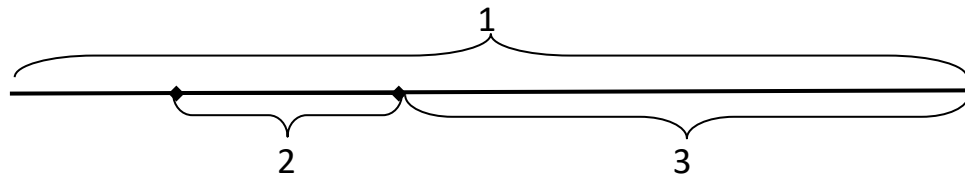
1. Розглянь уважно таблицю 1 і **впорядкуй** назви перелічених європейських країн за зменшенням їхньої географічної площі.

Таблиця 1.

*Географічні площі деяких країн Європи*

№з/п	Назви європейських країн	Площа (км <sup>2</sup> )	Назви європейських країн за зменшенням їхньої географічної площі
1.	<u>Велика Британія</u>	244 820	
2.	<u>Німеччина</u>	357 578	
3.	<u>Польща</u>	312 685	
4.	<u>Україна</u>	603 628	
5.	<u>Фінляндія</u>	338 145	
6.	<u>Франція</u>	551 595	

2. Розглянь геометричні фігури і **запиши** їх назви:



1 - \_\_\_\_\_ 2 - \_\_\_\_\_ 3 - \_\_\_\_\_

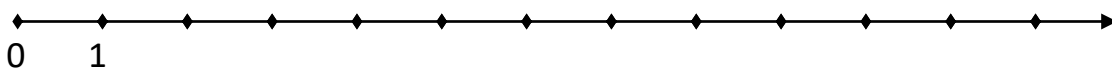
3. На території України більше 20 000 озер. Максимальна ширина деяких з них внесена у таблицю 2:

Таблиця 2

*Дані про ширину деяких озер України*

Позначення назви озер буквами	Назви озер України	Їх місцезнаходження	Ширина (км) X
A	Катлабуг	Басейн Дунаю	11
B	Кирлецьке	Крим	3
C	Молочне	Узбережжя Азовського моря	8

Розглянь координатний промінь. **Побудуй** на ньому точки А,В,С з координатами, що відповідають ширині кожного озера.



4. На координатному промені позначено деяке число М. Число *a* лежить ліворуч від числа М на три одиниці; число *b* – праворуч від числа М на чотири одиниці.



**10. Порівняй** іменовані числа:

1т 13 кг  113 кг

7 год 15 хв  455 хв

**11.** Оленка знайшла в інтернеті інформацію про найдовші річки України. Вона внесла знайдені дані у таблицю, використавши дію округлення чисел. **Обери назву** річки, довжина якої **округлена до тисяч кілометрів**.

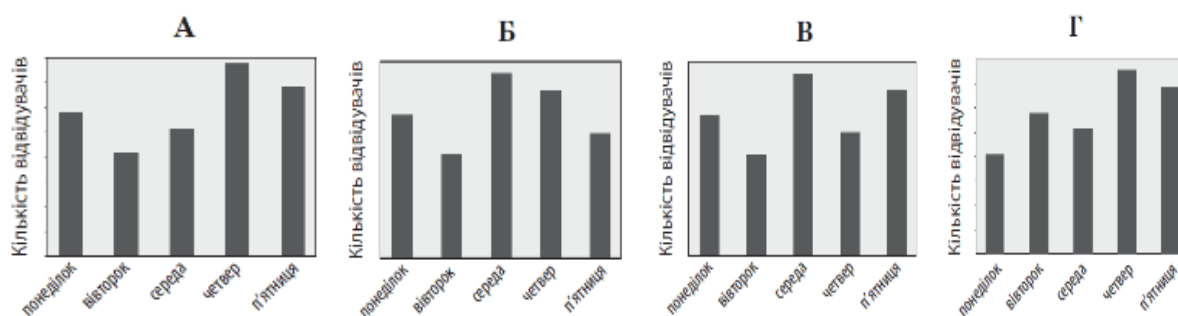
Таблиця 3

Найдовші річки України

№ з/п	Назва річки	Дані про довжину річок, що їх знайшла Оленка (км)	Довжина річок після виконання Оленкою дії округлення (км)
1.	Дніпро	2285	2290
2.	Дністер	1362	1400
3.	Десна	1126	1100
4.	Дунай	2850	3000

**12.** У таблиці наведено дані про кількість глядачів, які відвідали Камерну сцену театру ім. М. Заньковецької у м. Львові протягом п'яти днів тижня. На діаграмах *немає шкали (градації)* кількості глядачів. **Визначте**, на якій діаграмі правильно відображено дані, наведені у таблиці.

День тижня	Понеділок	Вівторок	Середа	Четвер	П'ятниця
К-ть відвідувачів	80	110	100	140	130



Оцінювальні судження з орієнтирами (за потреби) щодо покращення результатів виконання завдань із зазначенням рівня результату навчання (рівнева оцінка) \_\_\_\_\_

---



---



---



---



---

